


ΦΥΛΛΟ ΕΡΓΑΣΙΑΣ ΣΤΑ ΑΛΚΕΝΙΑ/ΑΛΚΙΝΙΑ

ΟΝΟΜΑ

ΕΠΙΘΕΤΟ

ΤΜΗΜΑ


1. Δίνεται το επόμενο διάγραμμα χημικών μετατροπών:



α) Να γράψετε τους συντακτικούς τύπους των οργανικών ενώσεων Α έως Ζ.


β) Να προτείνετε έναν πειραματικό τρόπο διάκρισης των οργανικών ενώσεων Α και Δ.

2. Δίνεται το επόμενο διάγραμμα χημικών μετατροπών:




Να γράψετε τους συντακτικούς τύπους των οργανικών ενώσεων Α έως Θ.

3. Δίνεται το επόμενο διάγραμμα χημικών μετατροπών:



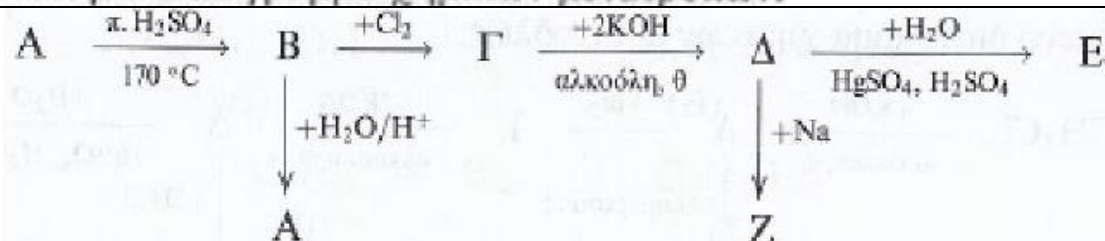
Να γράψετε τους συντακτικούς τύπους των οργανικών ενώσεων Α έως Λ.

4. Δίνεται το επόμενο διάγραμμα χημικών μετατροπών:



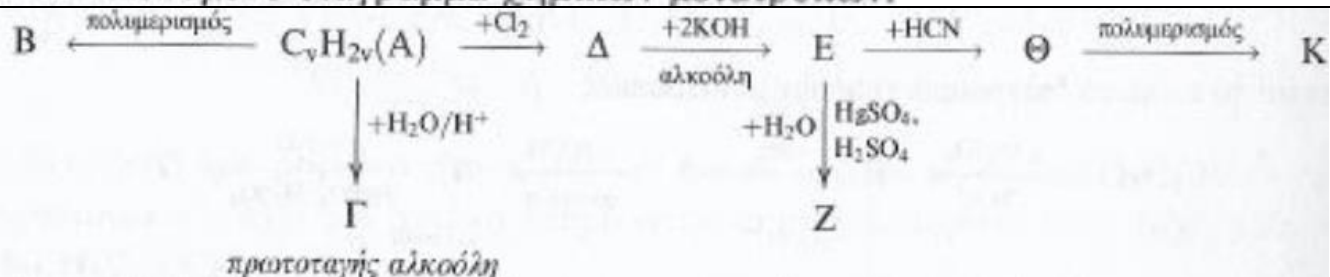
Να γράψετε τους συντακτικούς τύπους των οργανικών ενώσεων Α έως Ζ.

5. Δίνεται το επόμενο διάγραμμα χημικών μετατροπών:



Να γράψετε τους συντακτικούς τύπους των οργανικών ενώσεων Α έως Ζ.

6. Δίνεται το επόμενο διάγραμμα χημικών μετατροπών:



Να γράψετε τους συντακτικούς τύπους των οργανικών ενώσεων Α έως Κ.